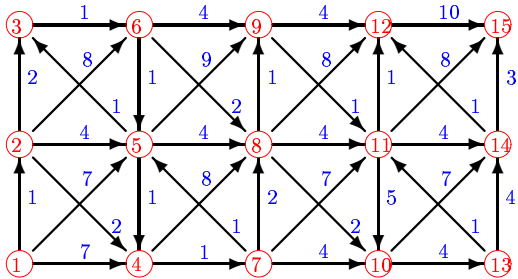


# Дискретная математика. Кратчайший путь. ОрГраф

Дан оргграф. Найти кратчайший путь от вершины ① к вершине ⑮.

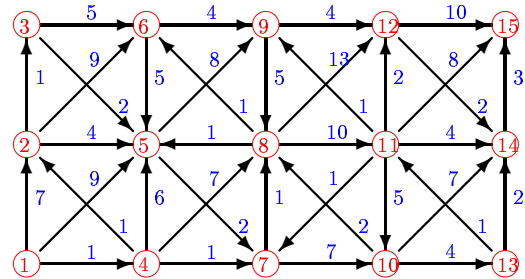
**Задача 2.1.**

*Грачёв Дмитрий*



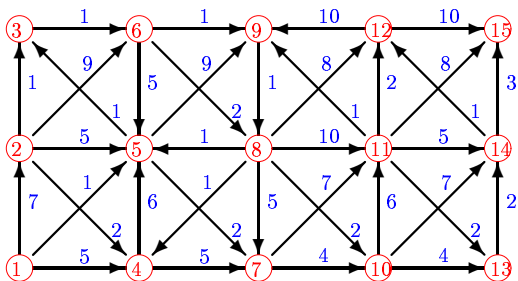
**Задача 2.2.**

*Коломиец Ярослав*



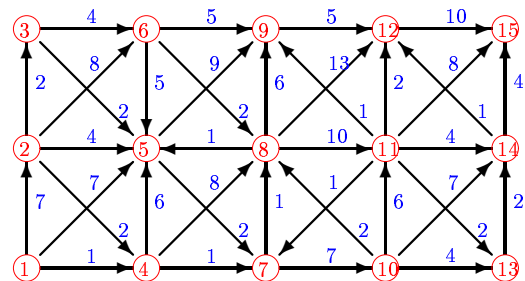
**Задача 2.3.**

*Липташкин Григорий*



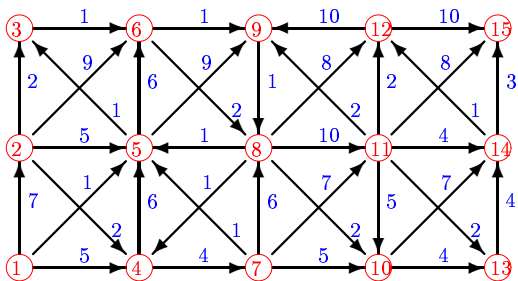
**Задача 2.4.**

*Майков Дмитрий*



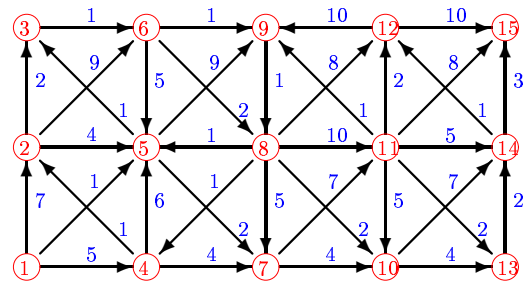
**Задача 2.5.**

*Оборин Дмитрий*



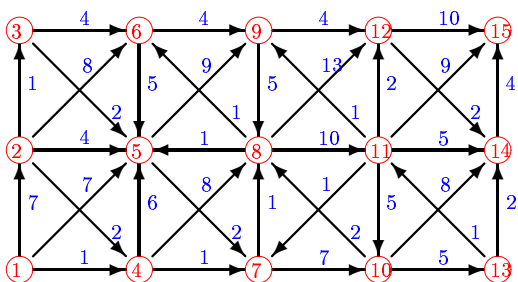
**Задача 2.6.**

*Осокина Майя*



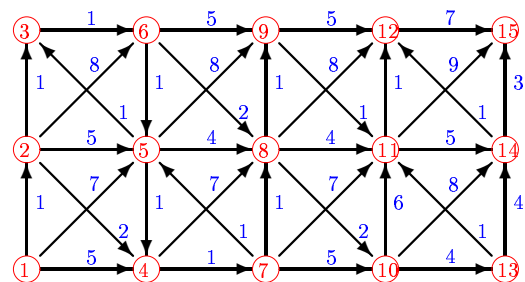
**Задача 2.7.**

*Переверзев Михаил Ильич*



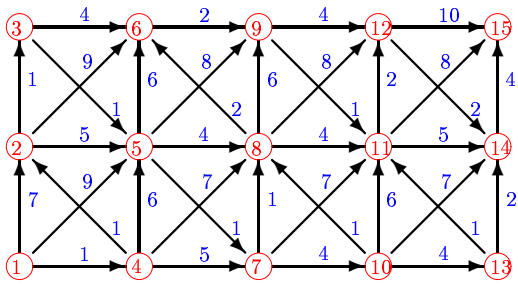
**Задача 2.8.**

*Ратников Матвей*



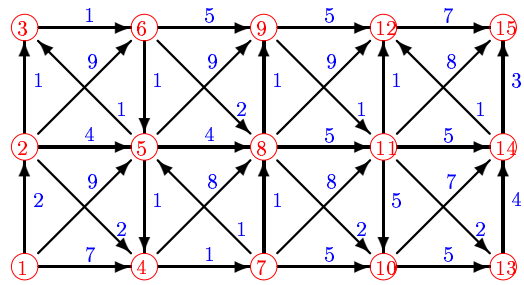
**Задача 2.9.**

*Семенякина Елизавета*



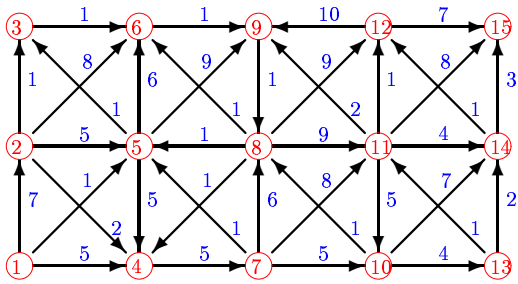
**Задача 2.10.**

*Снегирев Иван*



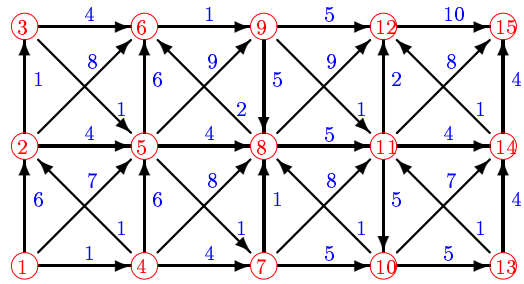
**Задача 2.11.**

*Толушкин Ростислав*



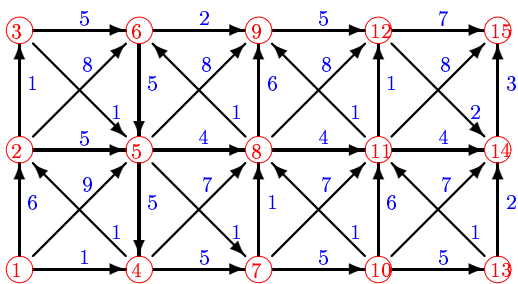
**Задача 2.12.**

*Турчанинов Никита*



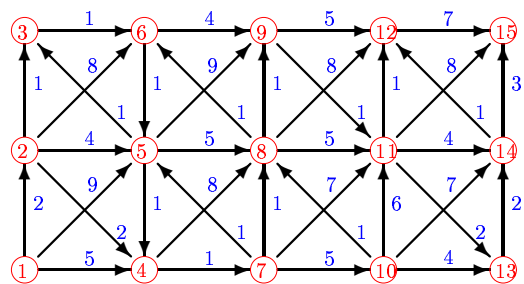
**Задача 2.13.**

*Чистяков Евгений*

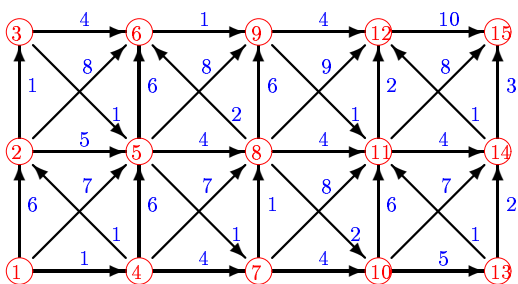


**Задача 2.14.**

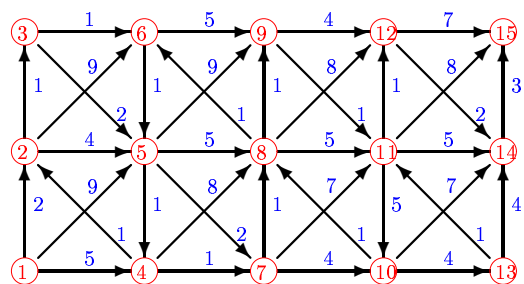
*Чугреев Никита*



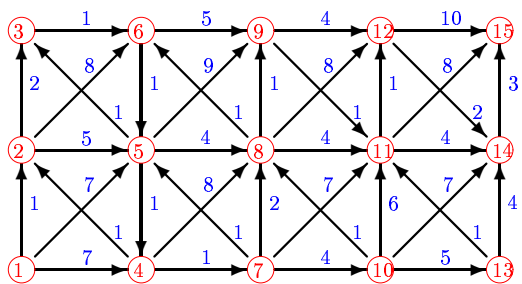
**Задача 2.15.**



**Задача 2.16.**



Задача 2.17.



Задача 2.18.

