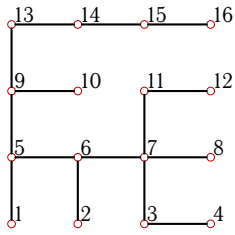


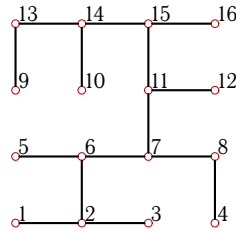
Дерево. Десятичная кодировка.

Найти радиус r и диаметр d графа. Записать десятичную кодировку дерева с корнем в вершине 7. Найти наименьший вес вершин дерева и его центроид.

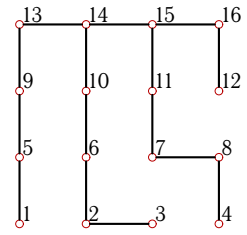
Задача 8.1. Горбушин Лев



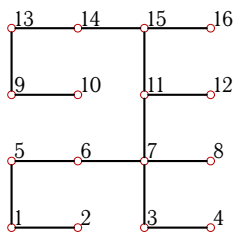
Задача 8.2. Городецкий Дмитрий



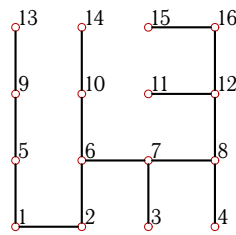
Задача 8.3. Гурина Мария



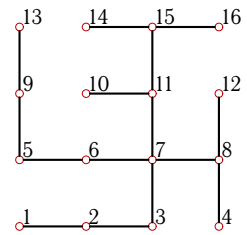
Задача 8.4. Захарченко Сергей



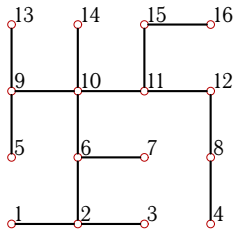
Задача 8.5. Кудрин Антон



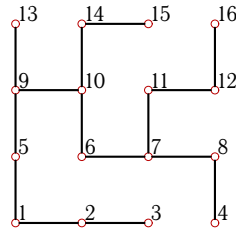
Задача 8.6. Макарова Вера



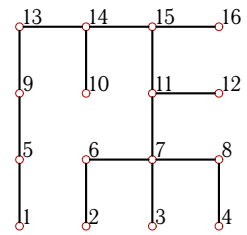
Задача 8.7. Скрыгина Мария



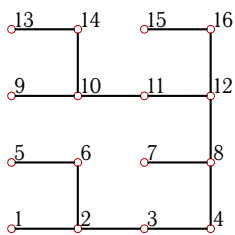
Задача 8.8. Стогов Анатолий



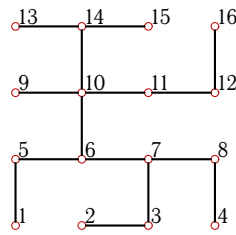
Задача 8.9. Чернов Владимир



Задача 8.10. Чуприна Александр



Задача 8.11. Вишневский Максим



Задача 8.12. Нестеров Александр

