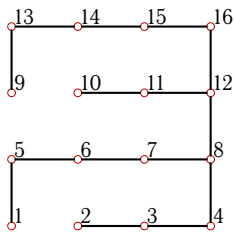


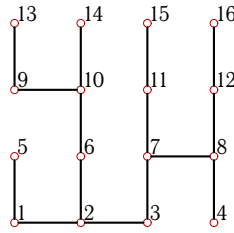
Дерево. Десятичная кодировка.

Найти радиус r и диаметр d графа. Записать десятичную кодировку дерева с корнем в вершине 7. Найти наименьший вес вершин дерева и его центроид.

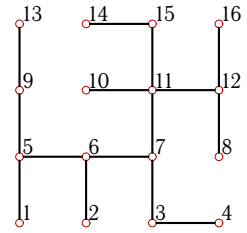
Задача 8.1. *Бондаренко Елена*



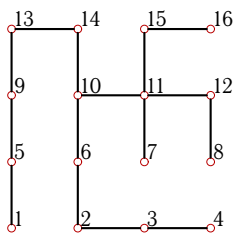
Задача 8.2. *Гамзин Дмитрий*



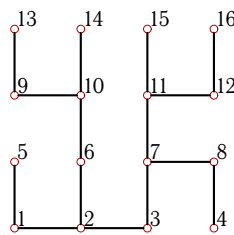
Задача 8.3. *Горячев Алексей*



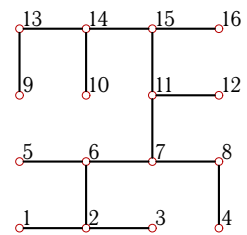
Задача 8.4. *Граблина Анастасия*



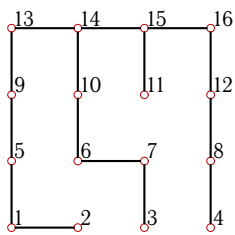
Задача 8.5. *Дзамихов Азамат*



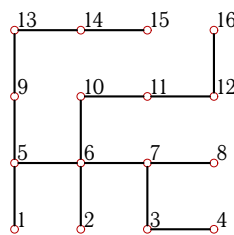
Задача 8.6. *Золоев Тимур*



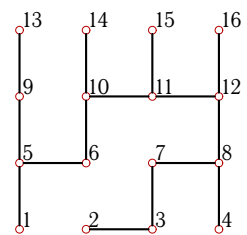
Задача 8.7. *Квардакова Елизавета*



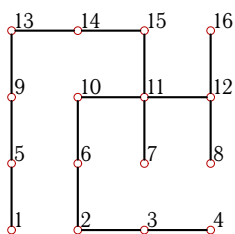
Задача 8.8. *Кирьяк Вадим*



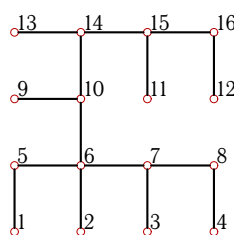
Задача 8.9. *Кожмяко Ирина*



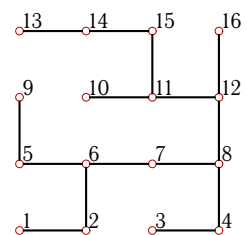
Задача 8.10. *Кремнев Алексей*



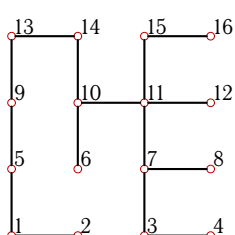
Задача 8.11. *Кузин Юрий*



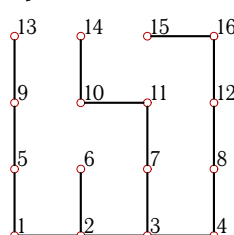
Задача 8.12. *Ложкина Юлия*



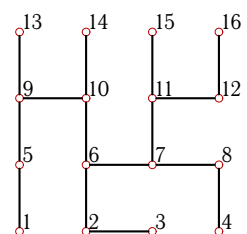
Задача 8.13. *Луковников Артем*



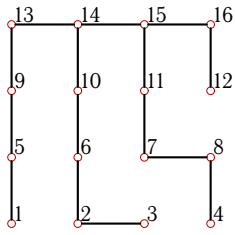
Задача 8.14. *Малахов Дмитрий*



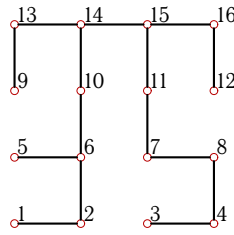
Задача 8.15. *Минь Герман*



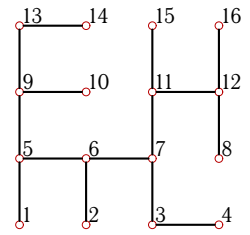
Задача 8.16. *Парсегов Олег*



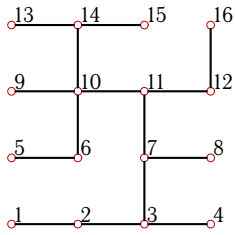
Задача 8.17. *Романов Сергей*



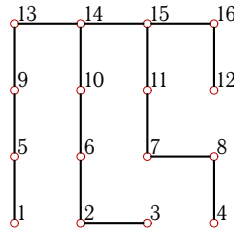
Задача 8.18. *Синькова Мария*



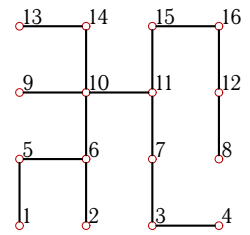
Задача 8.19. *Цветков Сергей*



Задача 8.20. *Шапкин Данил*



Задача 8.21. *Швалучинский Владимир*



Задача 8.22.

