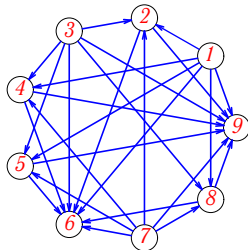


# Топологическая сортировка бесконтурной сети

Найти порядковую функцию сети.

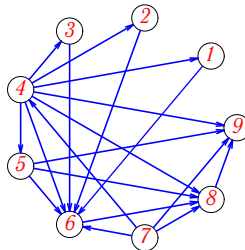
**Задача G-18.1.**

*Баринова Анастасия*



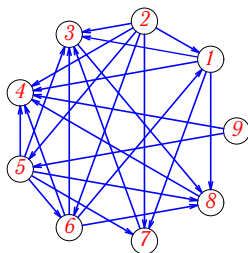
**Задача G-18.2.**

*Безобразова Анна*



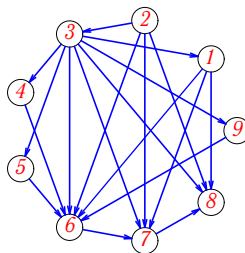
**Задача G-18.3.**

*Воронкин Александр*



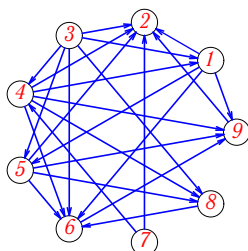
**Задача G-18.4.**

*Загребин Максим*



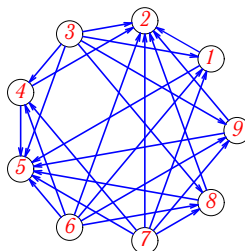
**Задача G-18.5.**

*Лебедев Александр*



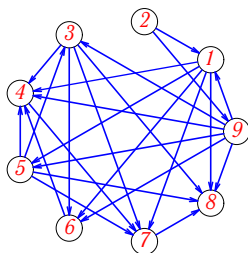
**Задача G-18.6.**

*Логвиненко Антон*



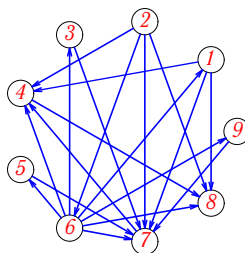
**Задача G-18.7.**

*Макаров Максим*



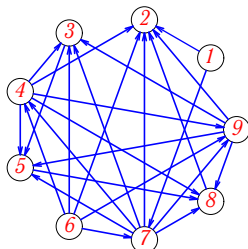
**Задача G-18.8.**

*Матросов Сергей*



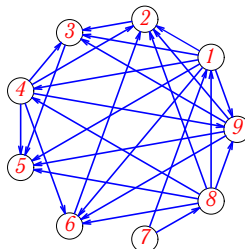
**Задача G-18.9.**

*Рябцев Андрей*



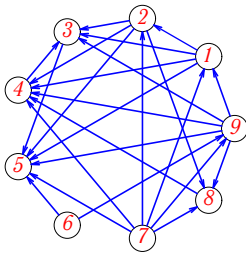
**Задача G-18.10.**

*Смирнов Павел*



**Задача G-18.11.**

Шабайкин Сергей



G-18

**Ответы.****Топологическая сортировка бесконтурной сети**

25.11.2013

1	(7,1,3),(2,4,5,8),(6,9)	Барина Анастасия
2	7,4,( 3,1,2,5)6, 8, 9	Безобразова Анна
3	(9,2) ,5 ,6 ,1 ,7 ,3 ,8 ,4	Воронкин Александр
4	2,3,( 9,4,5,1)6, 7, 8	Загребин Максим
5	(7,3) ,4 ,1 ,5 ,8 ,6 ,9 ,2	Лебедев Александр
6	(7,6,3),(4,8,9,1),(5,2)	Логвиненко Антон
7	2 , 9 , 1 , 5 , 3 , 6 , 4 , 7 , 8	Макаров Максим
8	2,6,( 9,5,3,1)7, 4, 8	Матросов Сергей
9	(1,6) ,7 ,4 ,9 ,3 ,5 ,8 ,2	Рябцев Андрей
10	7 , 8 , 1 , 4 , 9 , 6 , 2 , 3 , 5	Смирнов Павел
11	(6,7) ,9 ,1 ,2 ,8 ,4 ,3 ,5	Шабайкин Сергей

G-18 файл o18rdmА