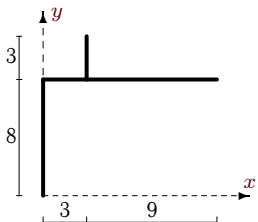


Секториальные характеристики сечений стержней открытого профиля

Найти геометрические характеристики сечения тонкостенного профиля. Размеры относятся к средним линиям сечения и указаны в сантиметрах. Толщина стенки равна 0.1см.

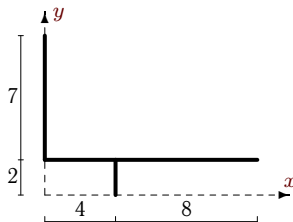
Задача 29.1.

Азаров Дмитрий



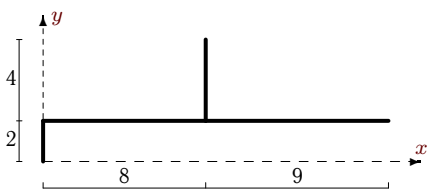
Задача 29.2.

Гаврилин Владимир



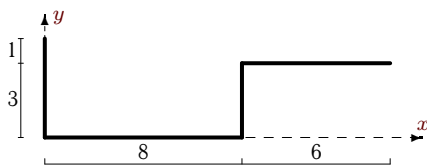
Задача 29.3.

Гладкова Елена



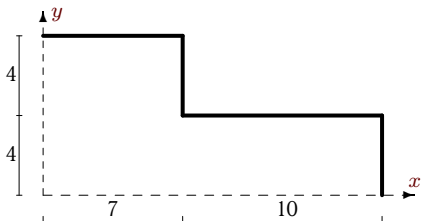
Задача 29.4.

Зимаков Олег



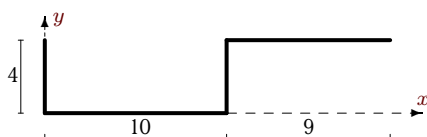
Задача 29.5.

Иванова Ксения



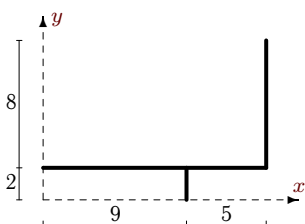
Задача 29.6.

Калинин Александр



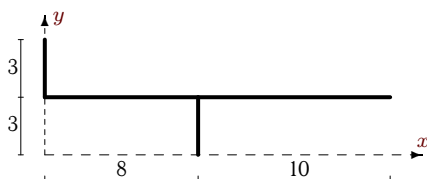
Задача 29.7.

Кольцова Наталья



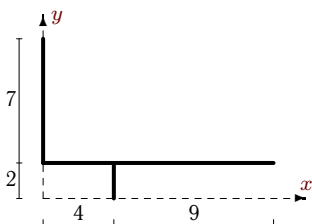
Задача 29.8.

Крыгин Михаил



Задача 29.9.

Лапухина Анна



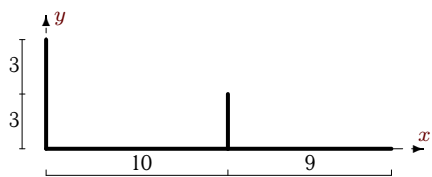
Задача 29.10.

Лозинский Павел



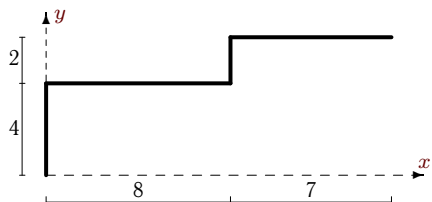
Задача 29.11.

Лыжов Алексей



Задача 29.13.

Шевлякова Алина



Задача 29.12.

Орлова Анна

