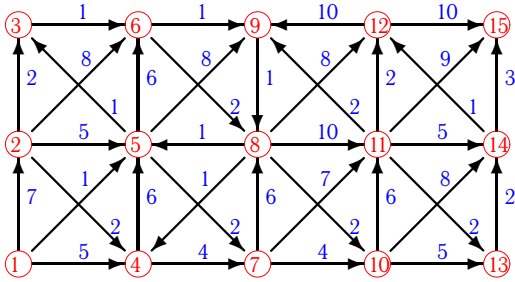


Дискретная математика. Кратчайший путь. ОрГраф

Дан орграф. Найти кратчайший путь от вершины ① к вершине ⑮.

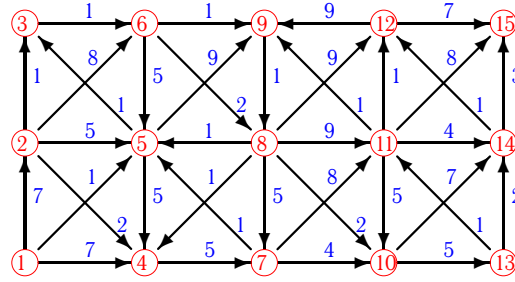
Задача 3.1.

Леви Владимир



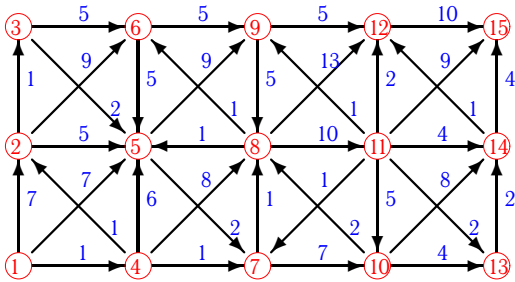
Задача 3.2.

Миканёв Семен



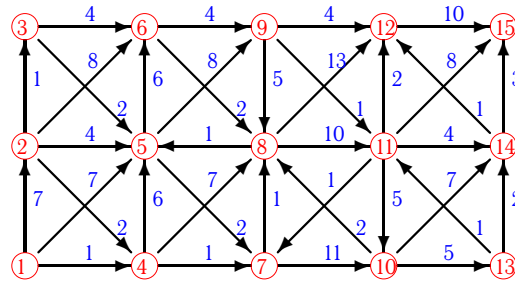
Задача 3.3.

Мокробородов Ярослав



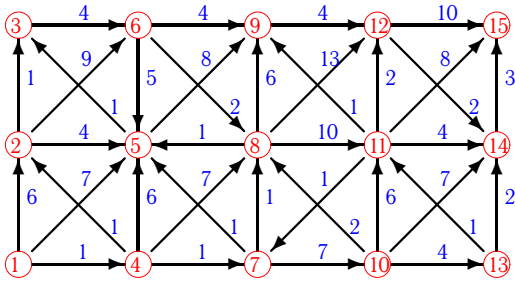
Задача 3.4.

Петришина Наталья



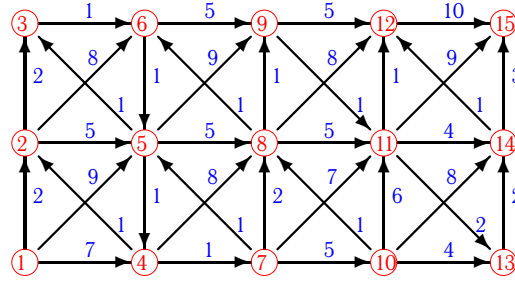
Задача 3.5.

Петров Александр



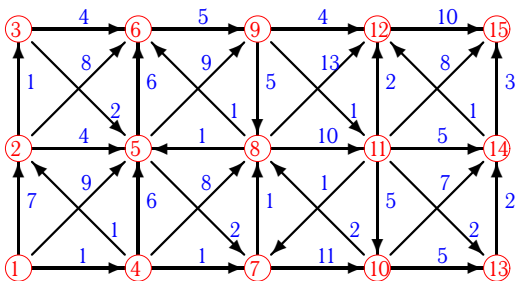
Задача 3.6.

Сайганов Никита



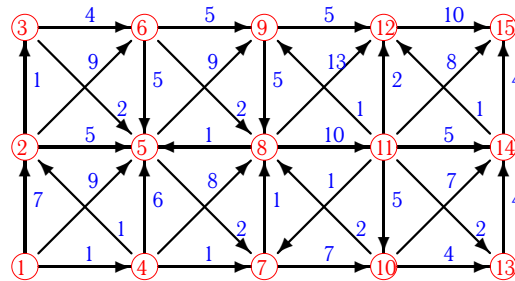
Задача 3.7.

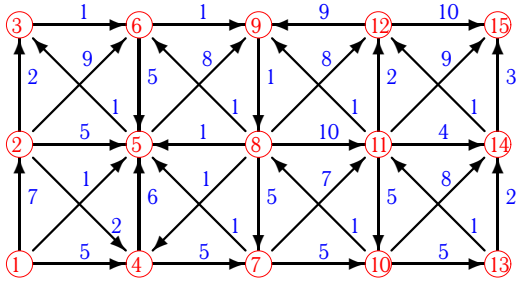
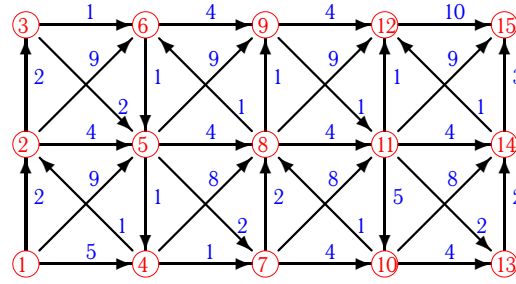
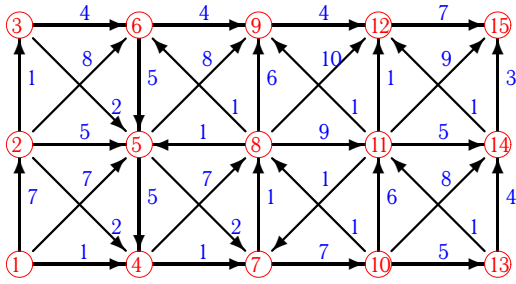
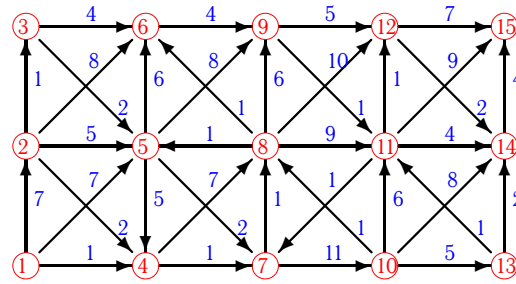
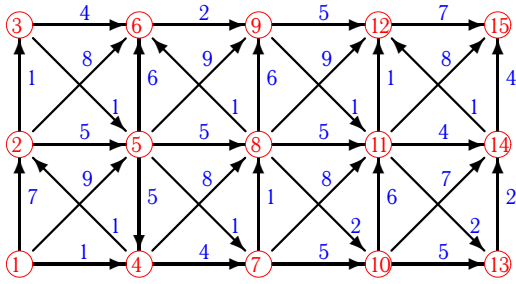
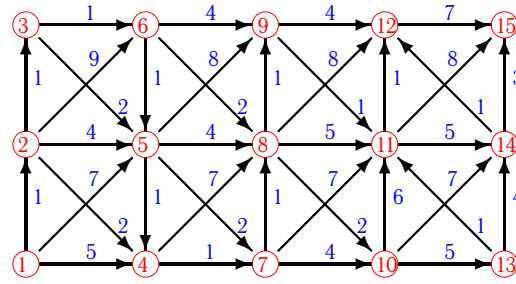
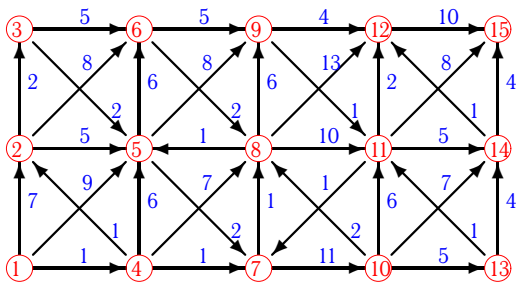
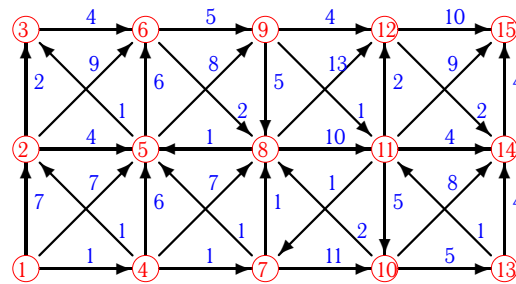
Ширинский Владимир



Задача 3.8.

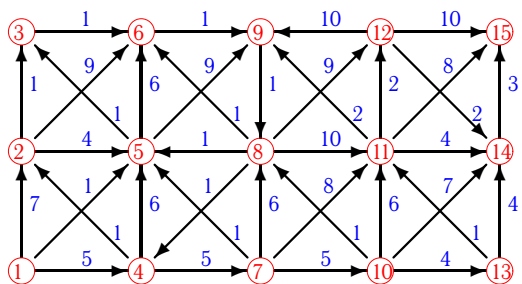
Банников Евгений



Задача 3.9.*Батулин Евгений***Задача 3.10.***Борисов Денис***Задача 3.11.***Глинин Филипп***Задача 3.12.***Гуркин Николай***Задача 3.13.***Дедков Вадим***Задача 3.14.***Дьячёк Никодим***Задача 3.15.***Кузнецов Никита***Задача 3.16.***Кутаев Алексей*

Задача 3.17.

Стрекалов Георгий



Задача 3.18.

Лебедев Дмитрий

