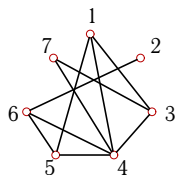


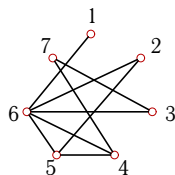
Радиус и диаметр графа

Найти число циклических маршрутов длины 3 (n_3), радиус r и диаметр d графа. Указать центр. Найти число остовов графа.

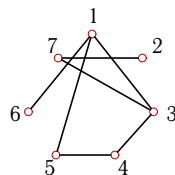
Задача G3.1. *Бабанов Никита*



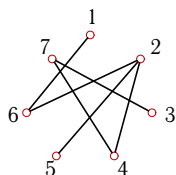
Задача G3.2. *Борисов Станислав*



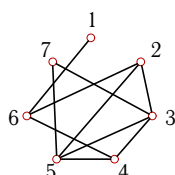
Задача G3.3. *Голиков Иван*



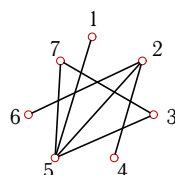
Задача G3.4. *Горкин Иван*



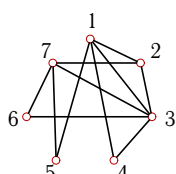
Задача G3.5. *Груничев Артём*



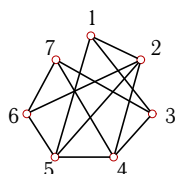
Задача G3.6. *Дёмкин Денис*



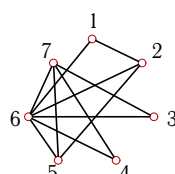
Задача G3.7. *Ерохин Александр*



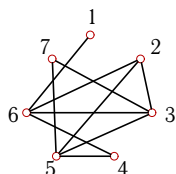
Задача G3.8. *Заборская Наталья*



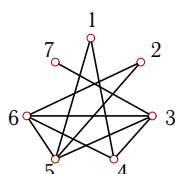
Задача G3.9. *Криво-ручко Анна*



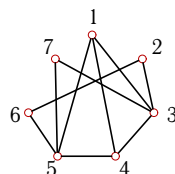
Задача G3.10. *Кручинин Олег*



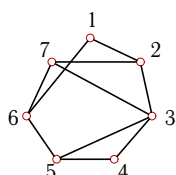
Задача G3.11. *Курицын Юрий*



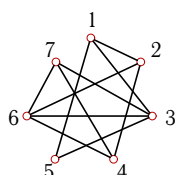
Задача G3.12. *Леонов Павел*



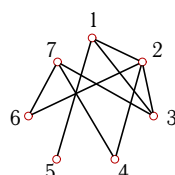
Задача G3.13. *Лукин Александр*



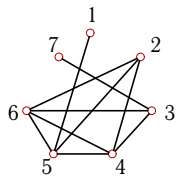
Задача G3.14. *Похожай Виктория*



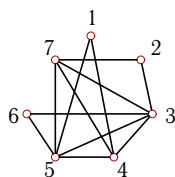
Задача G3.15. *Реутов Дмитрий*



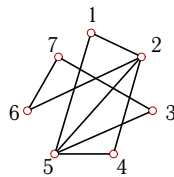
Задача G3.16. Сидоров
Константин



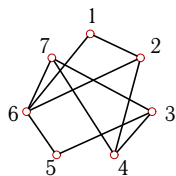
Задача G3.17. Сизов
Борис



Задача G3.18. Шни-
тонкова Елена



Задача G3.19. Семёнов
Михаил



Задача G3.20. Киселёв
Максим

