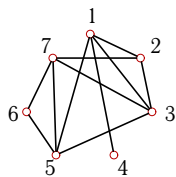


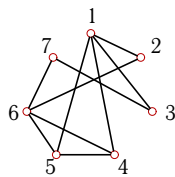
Радиус и диаметр графа

Найти число циклических маршрутов длины 3 (n_3), радиус r и диаметр d графа. Указать центр. Найти число остовов графа.

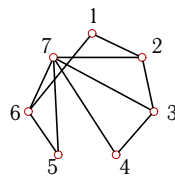
Задача G3.1. Антонов Егор



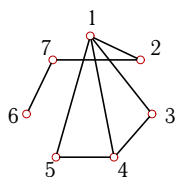
Задача G3.2. Гаркушин Александр



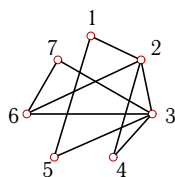
Задача G3.3. Губанова Александра



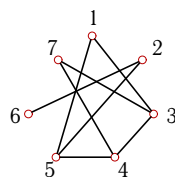
Задача G3.4. Ибрагимов Валерий



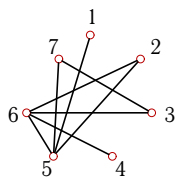
Задача G3.5. Киселева Александра



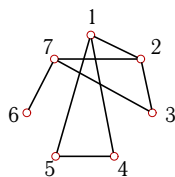
Задача G3.6. Кнута-вицкий Виталий



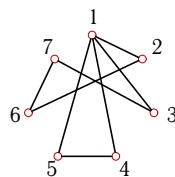
Задача G3.7. Купрюшин Валерий



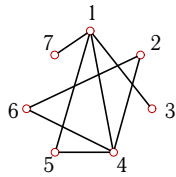
Задача G3.8. Кушнир Михаил Юрьевич



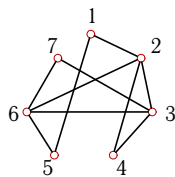
Задача G3.9. Ларичев Сергей Андреевич



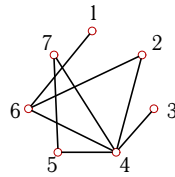
Задача G3.10. Мерзанов Виталий



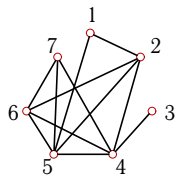
Задача G3.11. Николаев Артем



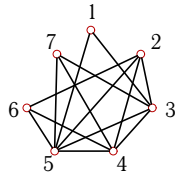
Задача G3.12. Первозчикова Полина



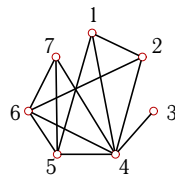
Задача G3.13. Романов Игорь Сергеевич



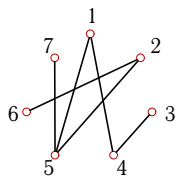
Задача G3.14. Русаков Антон Михайлович



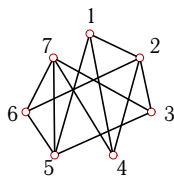
Задача G3.15. Семенов Александр



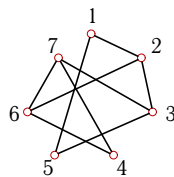
Задача G3.16. Созинова Екатерина



Задача G3.17. Тимченко Ксения Игоревна



Задача G3.18. Тырсина Анна Игоревна



Задача G3.19. Шустова Татьяна Игоревна

