

Геометрические характеристики плоской фигуры

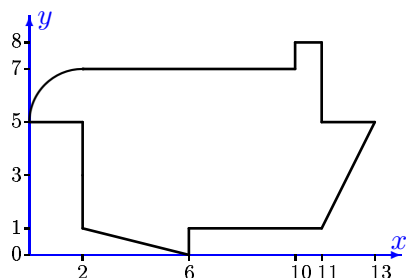
Найти главные моменты инерции (в см^4) плоской фигуры. Отметки на осях даны в сантиметрах. Криволинейный участок контура является дугой половины или четверти окружности.

Кирсанов М.Н. **Решбник. Теоретическая механика** / Под ред. А. И. Кириллова. – М.: ФИЗМАТЛИТ, 2008. — 384 с. (с.118.)

Задача S-15.1.

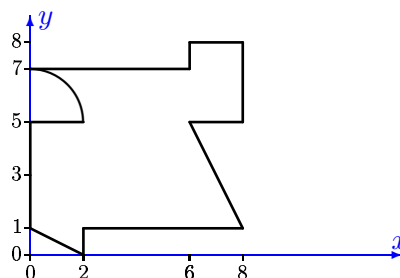
Антипенкова

Анастасия



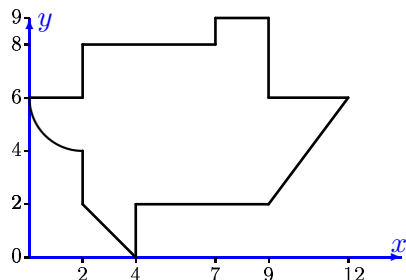
Задача S-15.2.

Бабайцева Ксения



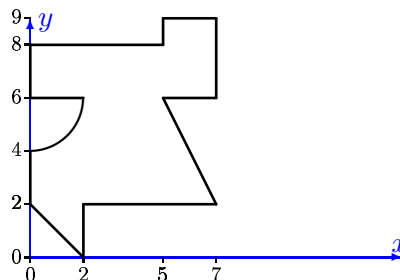
Задача S-15.3.

Булатова Елизавета



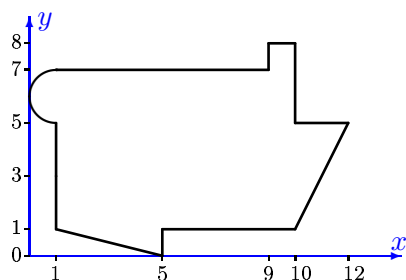
Задача S-15.4.

Висков Андрей



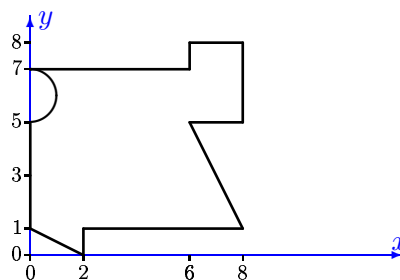
Задача S-15.5.

Габриелян Георгий



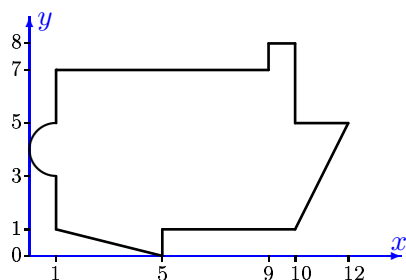
Задача S-15.6.

Галина Анастасия



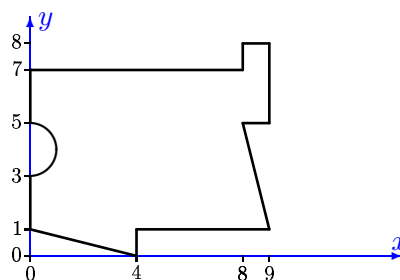
Задача S-15.7.

Журавлева Каролина



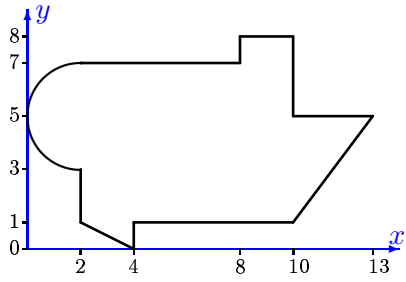
Задача S-15.8.

Калашикова Дарья



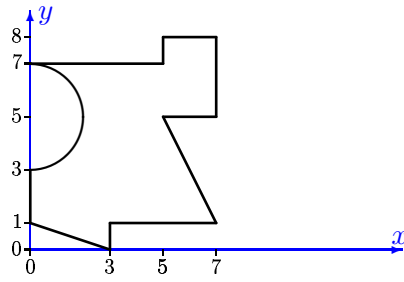
Задача S-15.9.

Каткова Ольга



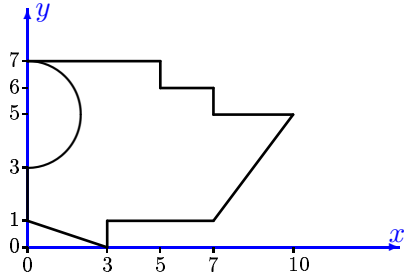
Задача S-15.10.

Ковальчук Наталия



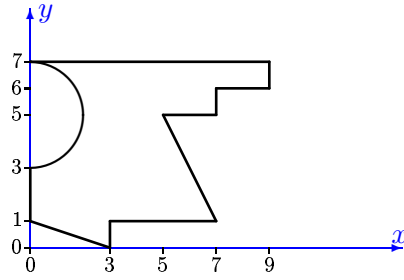
Задача S-15.11.

Козлова Анна



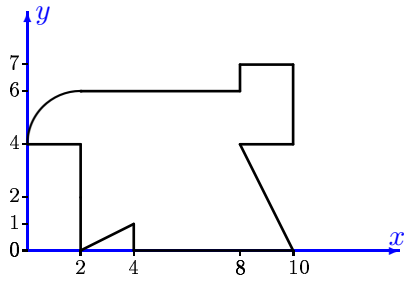
Задача S-15.12.

Кокарева Екатерина



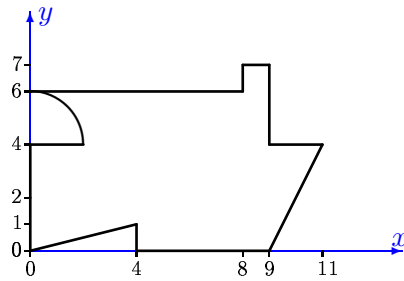
Задача S-15.13.

Конго Анна



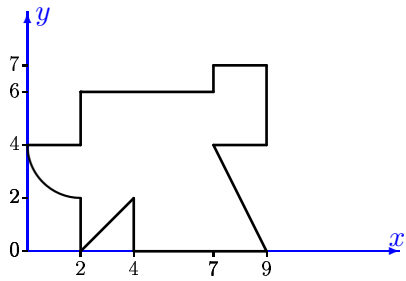
Задача S-15.14.

Кугук Юрий



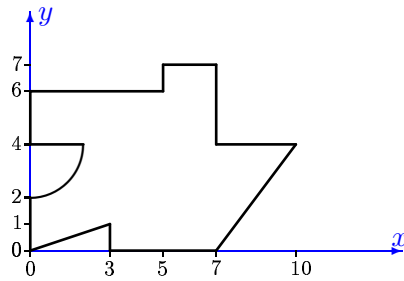
Задача S-15.15.

Куковьякина Надежда



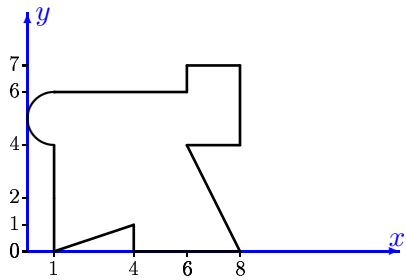
Задача S-15.16.

Панков Алексей



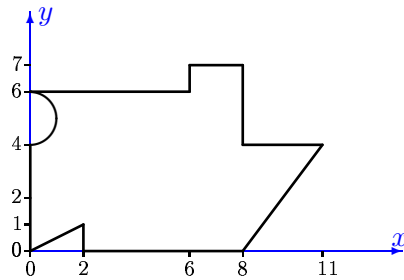
Задача S-15.17.

Рогачёв Дмитрий

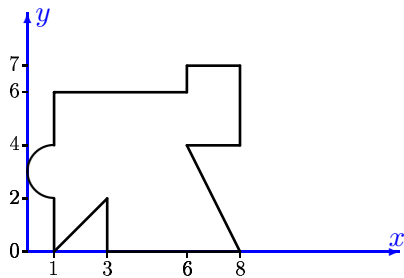


Задача S-15.18.

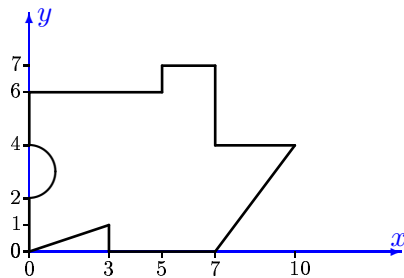
Садекова Альбина



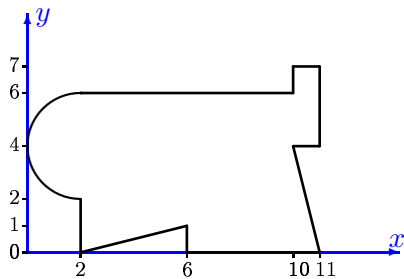
Задача S-15.19. Сиротенко Григорий



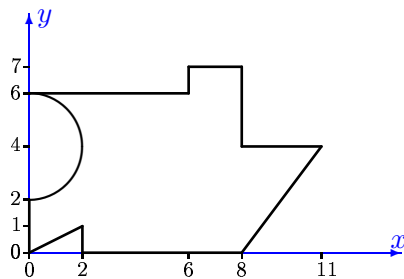
Задача S-15.20. Титова Кира



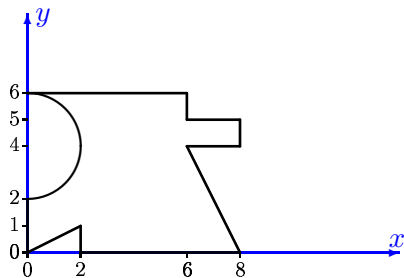
Задача S-15.21. Тоболева Василина



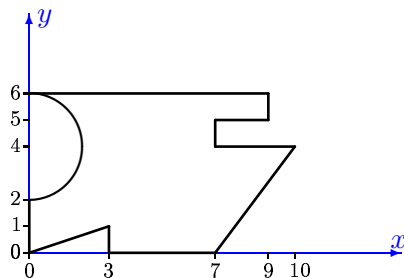
Задача S-15.22. Хренникова Татьяна



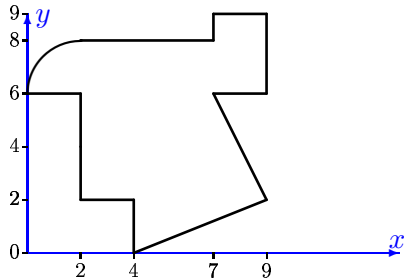
Задача S-15.23. Чиченёва Ксения



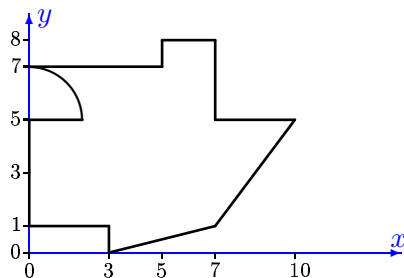
Задача S-15.24. Эверскова Анастасия



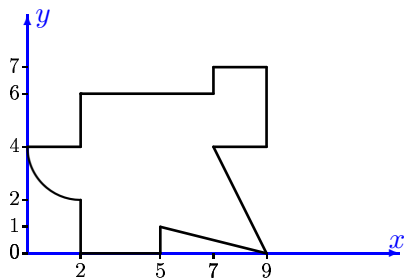
Задача S-15.25. Ермаков В.



Задача S-15.26. Алимов Шамиль



Задача S-15.27. Зуйков Игорь



Задача S-15.28.

