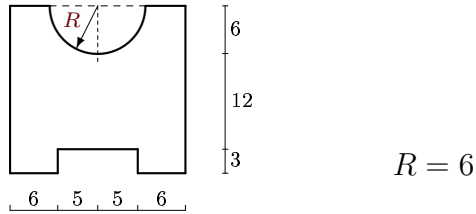


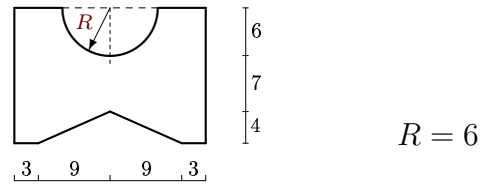
Ядро сечения

Найти ядро сечения. Указать координаты угловых точек ядра в главных центральных осях. Размеры даны в сантиметрах. Определить вероятность (%) неразрушения колонны при случайном приложении сжимающей силы для материала, не сопротивляющегося растяжению.

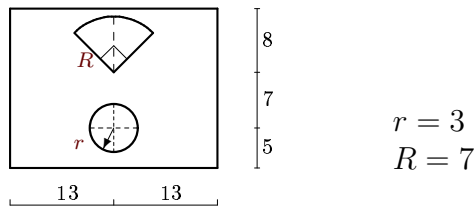
Задача L-21.1. *Барина Анастасия*



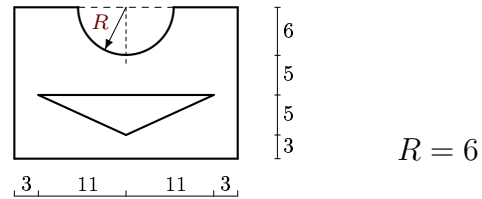
Задача L-21.2. *Безобразова Анна*



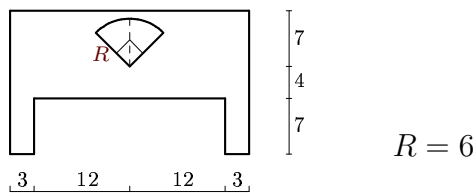
Задача L-21.3. *Дубов Дмитрий*



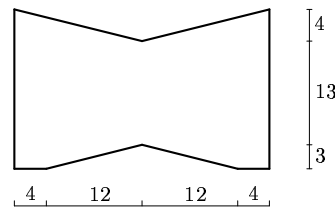
Задача L-21.4. *Коцеев Артем*



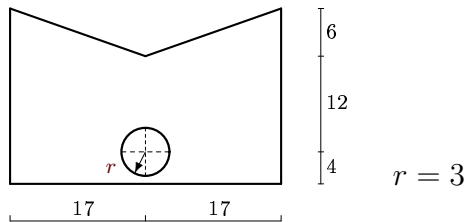
Задача L-21.5. *Логвинец Артем*



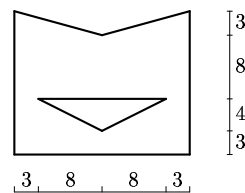
Задача L-21.6. *Малянов Иван*



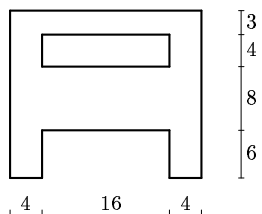
Задача L-21.7. *Рябцев Андрей*



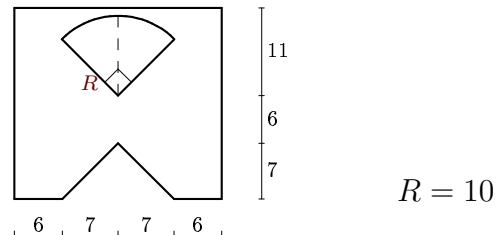
Задача L-21.8. *Сайпулаев Муса*



Задача L-21.9. *Смирнов Павел*

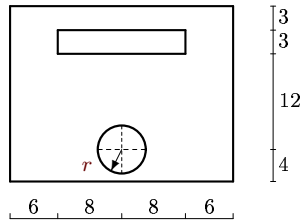


Задача L-21.10. *Цыганов Дмитрий*



Задача L-21.11.

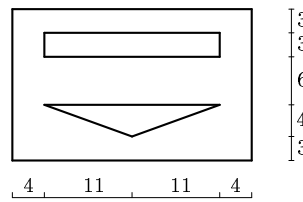
Васин Павел



$r = 3$

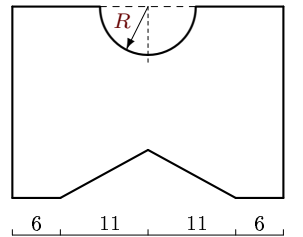
Задача L-21.12.

Похвалитова Анна



Задача L-21.14.

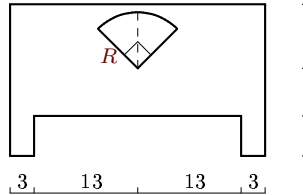
Фам Тхай Ву



$R = 6$

Задача L-21.13.

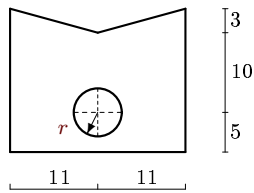
Сенчихина Дарья



$R = 7$

Задача L-21.15.

Ромеро Моника



$r = 3$