

Расчет статически неопределимой фермы

Найти реакции опор фермы.

Задача М8.1. *Андреев Артём Вадимович*

$P = 13 \text{ кН},$
 $Q = 5 \text{ кН}.$

Задача М8.2. *Батенин Владимир Вячеславович*

$P = 13 \text{ кН},$
 $Q = 4 \text{ кН}.$

Задача М8.3. *Глазова Арина Аркадьевна*

$P = 5 \text{ кН},$
 $Q = 4 \text{ кН}.$

Задача М8.4. *Гомзин Дмитрий Сергеевич*

$P = 11 \text{ кН},$
 $Q = 7 \text{ кН}.$

Задача М8.5. *Гришанкова Таисия Валерьевна*

$P = 7 \text{ кН},$
 $Q = 4 \text{ кН}.$

Задача М8.6. *Дюкова Алена Николаевна*

$P = 12 \text{ кН},$
 $Q = 4 \text{ кН}.$

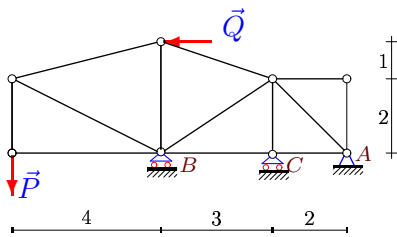
Задача М8.7. *Жиркова Александра Михайловна*

$P = 11 \text{ кН},$
 $Q = 9 \text{ кН}.$

Задача М8.8. *Иванов Александр Михайлович*

$P = 12 \text{ кН},$
 $Q = 6 \text{ кН}.$

Задача M8.9. Изюмцев Даниил Олегович

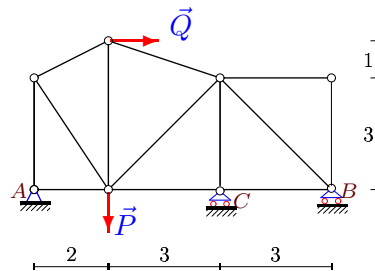


$P = 8 \text{ кН},$
 $Q = 3 \text{ кН}.$

Задача M8.10.

Алишеровна

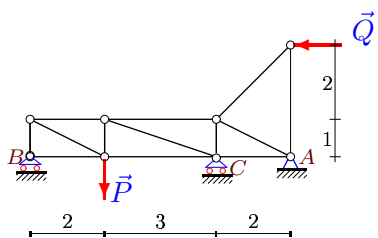
Исамидинова Мария



$P = 10 \text{ кН},$
 $Q = 5 \text{ кН}.$

Задача M8.11. Калистратова Екатерина

Георгиевна

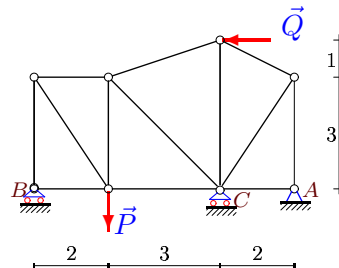


$P = 8 \text{ кН},$
 $Q = 7 \text{ кН}.$

Задача M8.12.

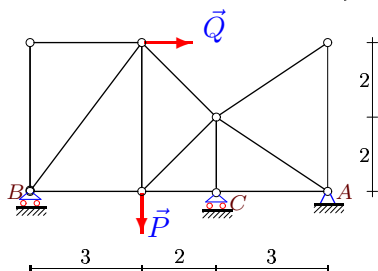
Алексеевна

Королева Анастасия



$P = 8 \text{ кН},$
 $Q = 9 \text{ кН}.$

Задача M8.13. Кузнецова Лилия Михайловна

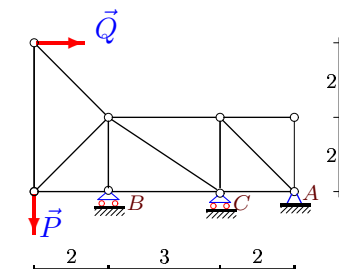


$P = 9 \text{ кН},$
 $Q = 3 \text{ кН}.$

Задача M8.14.

Андреевич

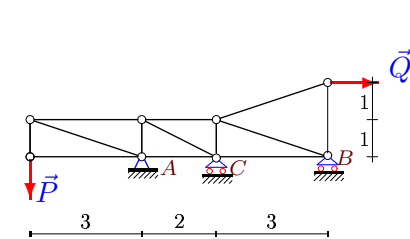
Куропаткин Степан



$P = 6 \text{ кН},$
 $Q = 8 \text{ кН}.$

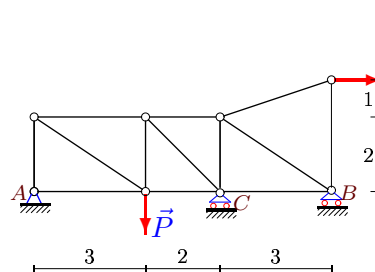
Задача M8.15. Лапонова Екатерина

Валерьевна



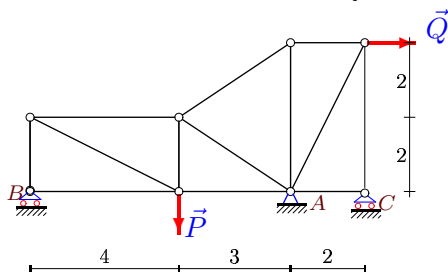
$P = 6 \text{ кН},$
 $Q = 3 \text{ кН}.$

Задача M8.16. Мишенина Татьяна Борисовна



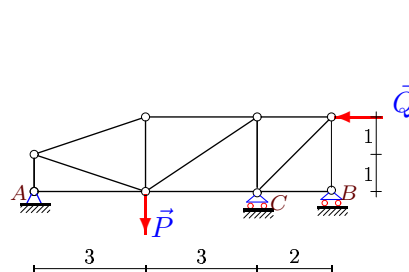
$P = 13 \text{ кН},$
 $Q = 6 \text{ кН}.$

Задача M8.17. Прокофьев Эдуард Андреевич



$P = 13 \text{ кН},$
 $Q = 9 \text{ кН}.$

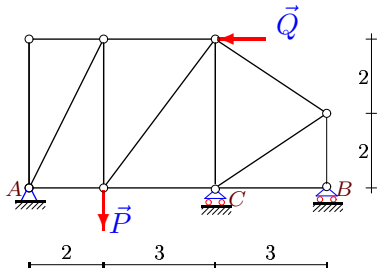
Задача M8.18.



$P = 10 \text{ кН},$
 $Q = 3 \text{ кН}.$

Задача М8.19.

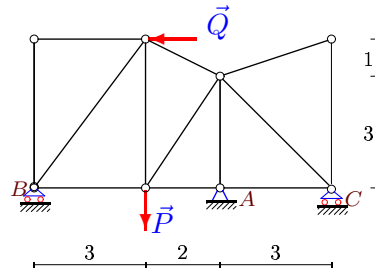
Мишонкова К.



$$P = 13 \text{ кН},$$
$$Q = 7 \text{ кН}.$$

Задача М8.20.

Акалаев Э.



$$P = 11 \text{ кН},$$
$$Q = 7 \text{ кН}.$$