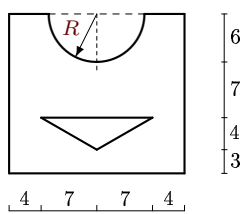
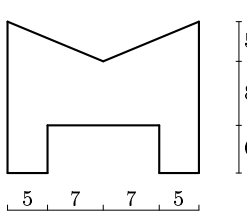
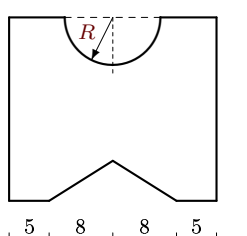
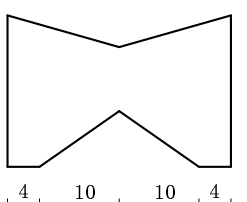
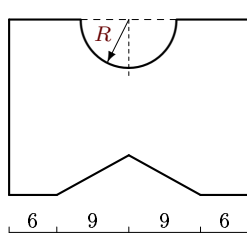
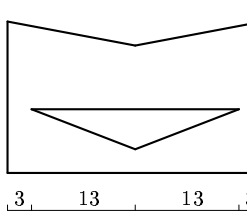
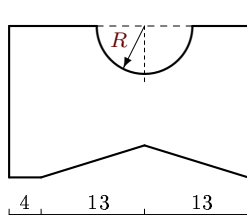
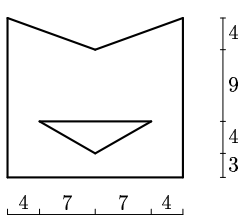
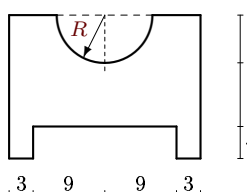
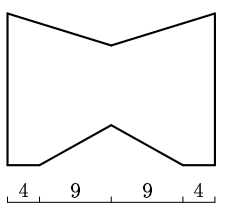


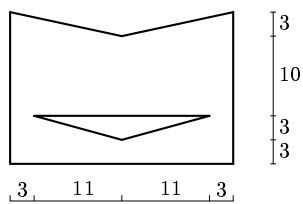
Ядро сечения

Найти ядро сечения. Указать координаты угловых точек ядра в главных центральных осях. Размеры даны в сантиметрах. Определить вероятность (%) неразрушения колонны при случайном приложении сжимающей силы для материала, не сопротивляющегося растяжению.

<p>Задача* L-21.1. <i>Ахметов Данис</i></p>  <p style="text-align: right;">$R = 6$</p>	<p>Задача* L-21.2. <i>Васильков Илья</i></p> 
<p>Задача* L-21.3. <i>Васильченко Данил</i></p>  <p style="text-align: right;">$R = 6$</p>	<p>Задача* L-21.4. <i>Егоров Сергей</i></p> 
<p>Задача* L-21.5. <i>Жуков Андрей</i></p>  <p style="text-align: right;">$R = 6$</p>	<p>Задача* L-21.6. <i>Иванова Дарья</i></p> 
<p>Задача* L-21.7. <i>Компанеев Кирилл</i></p>  <p style="text-align: right;">$R = 6$</p>	<p>Задача* L-21.8. <i>Овчаренко Ульяна</i></p> 
<p>Задача* L-21.9. <i>Петриченко Елизавета</i></p>  <p style="text-align: right;">$R = 6$</p>	<p>Задача* L-21.10. <i>Разананирина Ранди</i></p> 

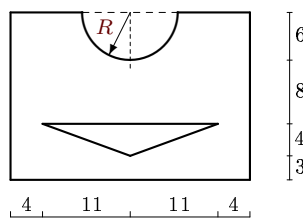
Задача* L-21.11.

Скулова Полина



Задача* L-21.12.

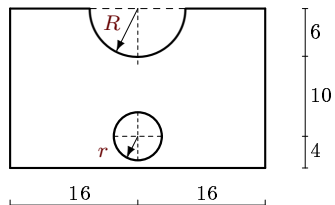
Широков Александр



$$R = 6$$

Задача* L-21.13.

Равжир Хосбаяр



$$r = 3$$
$$R = 6$$