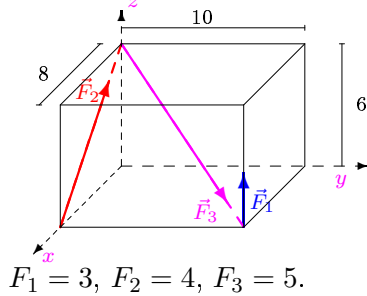


Приведение системы сил

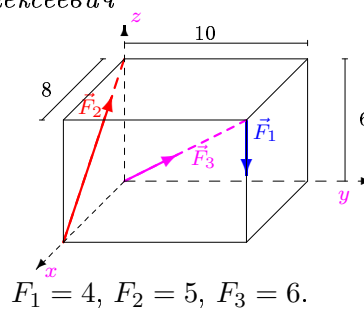
Систему трех сил, приложенных к вершинам параллелепипеда, привести к началу координат. Найти координаты точки пересечения центральной винтовой оси с плоскостью xy . Размеры на рисунках даны в м, силы — в Н.

Кирсанов М.Н. **Решебник. Теоретическая механика**/Под ред. А. И. Кириллова.— М.: ФИЗМАТЛИТ, 2008. — 384 с. (с.111.)

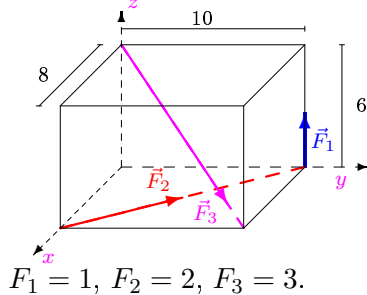
Задача 12.1. Анисимов Марат Андреевич



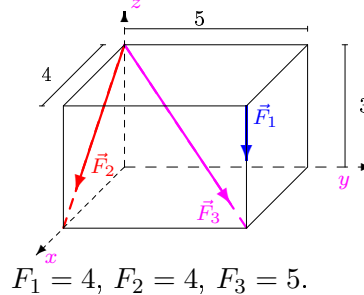
Задача 12.2. Бабушкин Семен Алексеевич



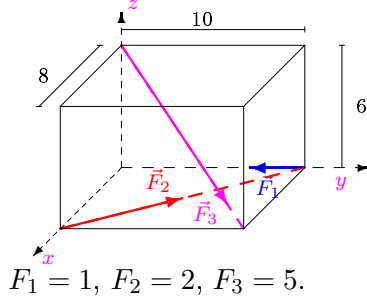
Задача 12.3. Вагрянцев Роман Андреевич



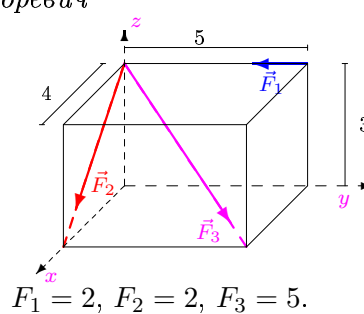
Задача 12.4. Быткулеску Давид



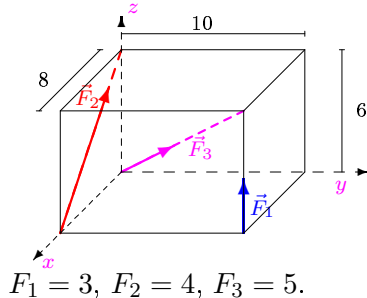
Задача 12.5. Грачева Татьяна Юрьевна



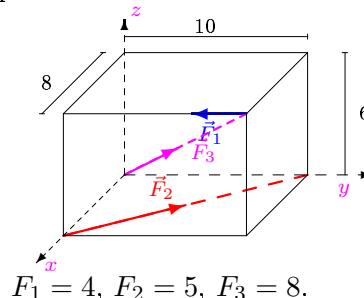
Задача 12.6. Дебушевский Руслан Игоревич



Задача 12.7. Зайнутдинов Эдуард Ильясович

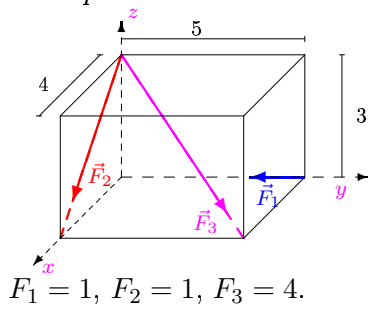


Задача 12.8. Захаров Александр Сергеевич



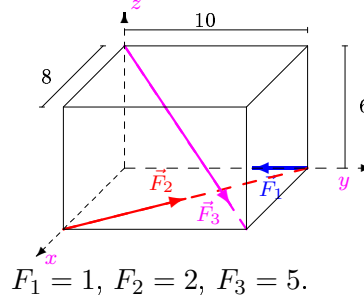
Задача 12.9.
Александрович

Кашпур Марк



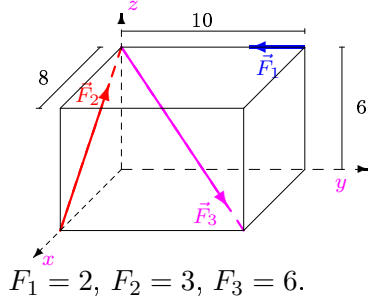
Задача 12.10.

Клюбаев Темирлан



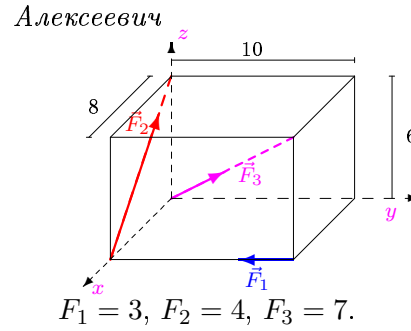
Задача 12.11.
Алексеевич

Комладзе Андрей



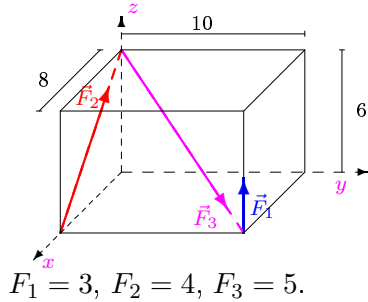
Задача 12.12.

Коптяев Андрей



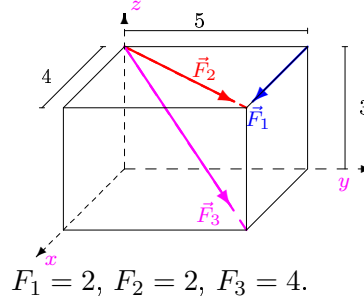
Задача 12.13.
Александрович

Кречков Николай



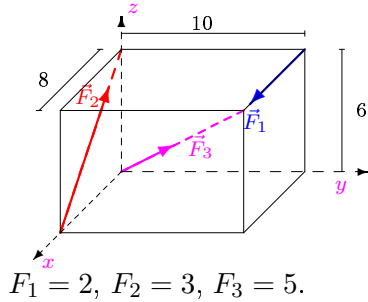
Задача 12.14.

Опря Вячеслав Игоревич



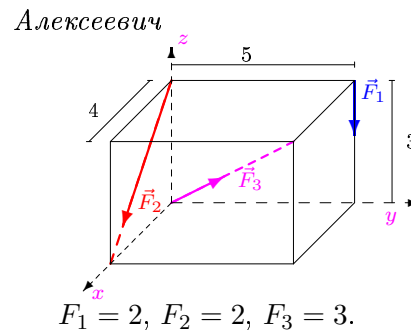
Задача 12.15.
Дмитриевич

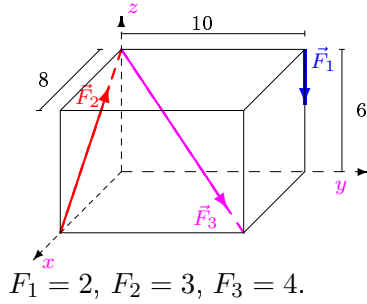
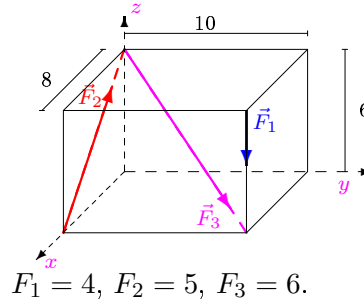
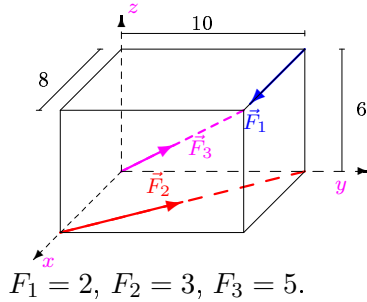
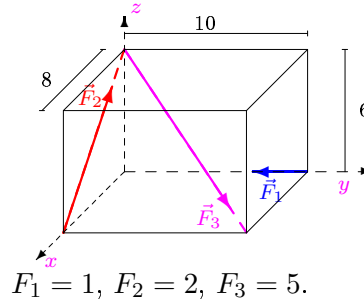
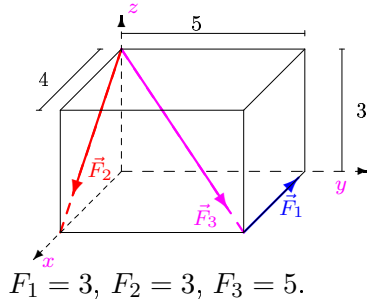
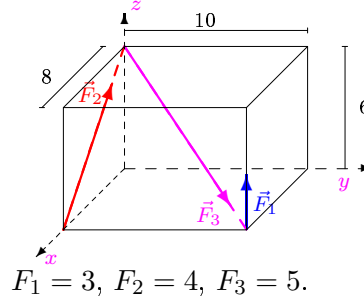
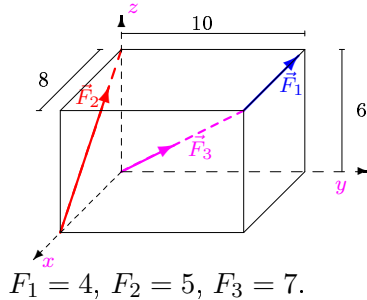
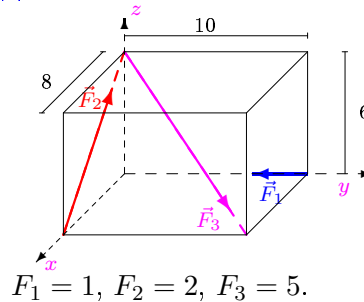
Остахов Захар



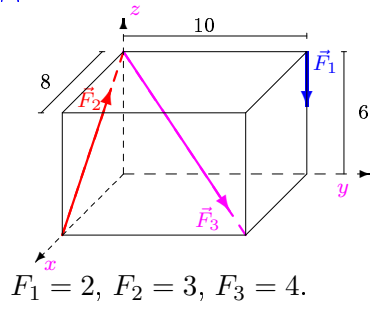
Задача 12.16.

Примаченко Илья



Задача 12.17.*Редькина Екатерина**Романовна***Задача 12.18.***Розанова Анна**Михайловна***Задача 12.19.***Старостин Павел**Игоревич***Задача 12.20.***Татауров Вадим**Александрович***Задача 12.21.***Тогтохбаатар Батдорж***Задача 12.22.***Цепалин Павел**Константинович***Задача 12.23.***Шерстнев Сергей**Геннадьевич***Задача 12.24.***Юань Хайтян*

Задача 12.25.



Задача 12.26.

