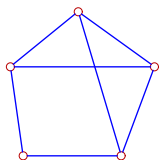


Ранг-полином

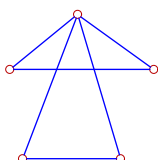
Найти ранг-полином графа.

Задача 23.1. *Александрин Антон*



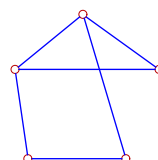
$$x_0 = 2, y_0 = 4$$

Задача 23.2. *Балов Артём*



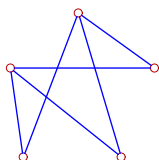
$$x_0 = 3, y_0 = 2$$

Задача 23.3. *Белоусов Георгий*



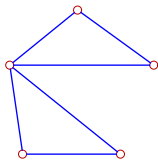
$$x_0 = 2, y_0 = 3$$

Задача 23.4. *Гильманов Булат*



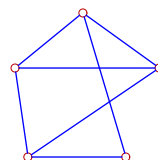
$$x_0 = 1, y_0 = 4$$

Задача 23.5. *Егоров Всеволод*



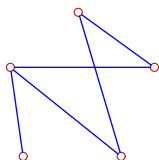
$$x_0 = 3, y_0 = 4$$

Задача 23.6. *Журавлева Анастасия*



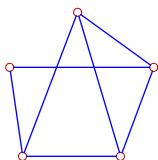
$$x_0 = 3, y_0 = 4$$

Задача 23.7. *Каменковский Денис*



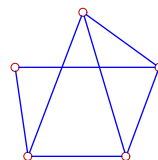
$$x_0 = 1, y_0 = 4$$

Задача 23.8. *Ле Ань Дык*



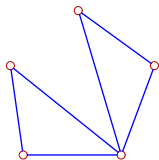
$$x_0 = 3, y_0 = 2$$

Задача 23.9. *Луканин Александр*



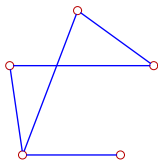
$$x_0 = 2, y_0 = 1$$

Задача 23.10. *Мхитарян Давид*



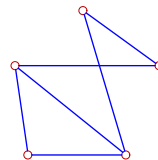
$$x_0 = 3, y_0 = 2$$

Задача 23.11. *Пронечкин Дмитрий*



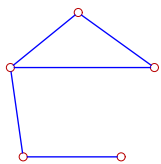
$$x_0 = 3, y_0 = 1$$

Задача 23.12. *Семенов Дмитрий*



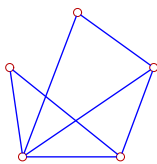
$$x_0 = 2, y_0 = 3$$

Задача 23.13. *Сергеев
Константин*



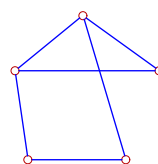
$$x_0 = 1, y_0 = 3$$

Задача 23.14. *Ткач
Вячеслав*



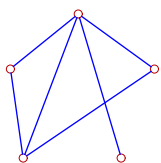
$$x_0 = 1, y_0 = 4$$

Задача 23.15. *Фадеева
Вероника*



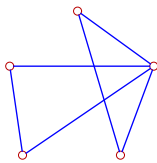
$$x_0 = 2, y_0 = 4$$

Задача 23.16. *Чернышев
Егор*



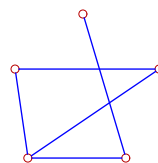
$$x_0 = 1, y_0 = 4$$

Задача 23.17. *Чирара
Хамид*



$$x_0 = 1, y_0 = 2$$

Задача 23.18. *Шешуков
Кирилл*



$$x_0 = 1, y_0 = 3$$