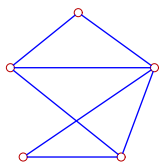


Ранг-полином

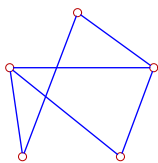
Найти ранг-полином графа.

Задача 23.1. *Бондаренко Андрей*



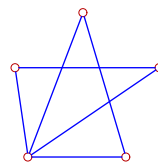
$$x_0 = 3, y_0 = 4$$

Задача 23.2. *Волошин Даниил*



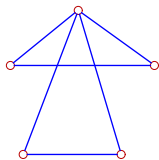
$$x_0 = 3, y_0 = 2$$

Задача 23.3. *Зубрильчев Даниил*



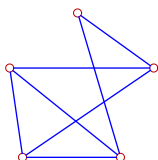
$$x_0 = 1, y_0 = 3$$

Задача 23.4. *Иванов Михаил*



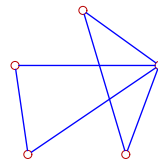
$$x_0 = 3, y_0 = 4$$

Задача 23.5. *Котов Дмитрий*



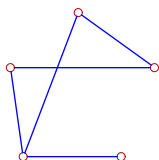
$$x_0 = 2, y_0 = 3$$

Задача 23.6. *Лушинов Никита*



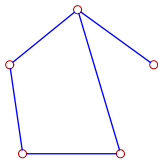
$$x_0 = 2, y_0 = 3$$

Задача 23.7. *Ничипорова Светлана*



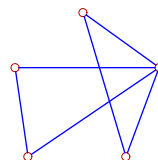
$$x_0 = 1, y_0 = 4$$

Задача 23.8. *Осипова Татьяна*



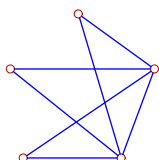
$$x_0 = 3, y_0 = 1$$

Задача 23.9. *Петренко Валерия*



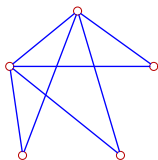
$$x_0 = 3, y_0 = 1$$

Задача 23.10. *Рясной-Бредихин Владимир*



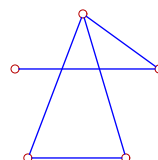
$$x_0 = 1, y_0 = 2$$

Задача 23.11. *Тибанов Вячеслав*



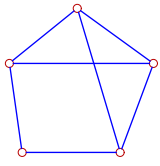
$$x_0 = 2, y_0 = 3$$

Задача 23.12. *Уткин Артем*



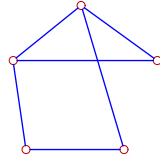
$$x_0 = 1, y_0 = 4$$

Задача 23.13.
Шатравка Артем



$$x_0 = 1, y_0 = 2$$

Задача 23.14. Гер-
валъд Владислав



$$x_0 = 1, y_0 = 2$$