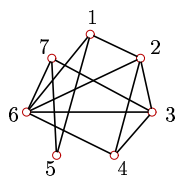


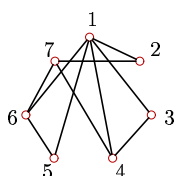
Радиус и диаметр графа

Найти число циклических маршрутов длины 3 (n_3), радиус r и диаметр d графа. Указать центр. Найти число остовов графа.

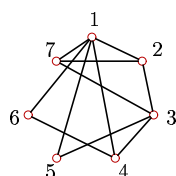
Задача 3.1. *Александрин Антон*



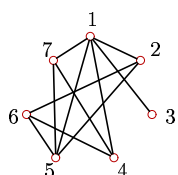
Задача 3.2. *Балов Артём*



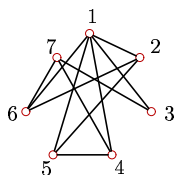
Задача 3.3. *Белоусов Георгий*



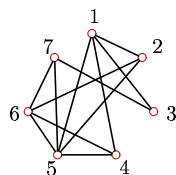
Задача 3.4. *Гильманов Булат*



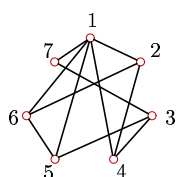
Задача 3.5. *Егоров Всеволод*



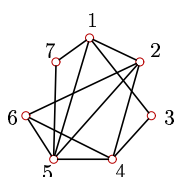
Задача 3.6. *Журавлева Анастасия*



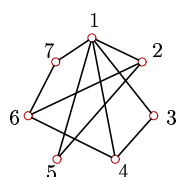
Задача 3.7. *Каменовский Денис*



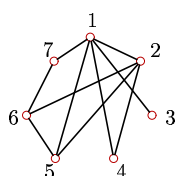
Задача 3.8. *Ле Анъ Дык*



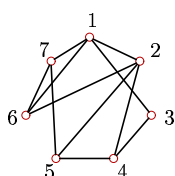
Задача 3.9. *Луканин Александр*



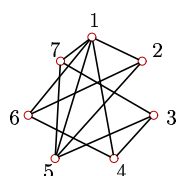
Задача 3.10. *Мхитарян Давид*



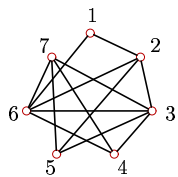
Задача 3.11. *Пронечкин Дмитрий*



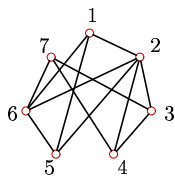
Задача 3.12. *Семенов Дмитрий*



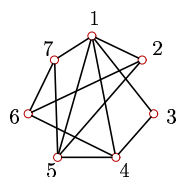
Задача 3.13. *Сергеев Константин*



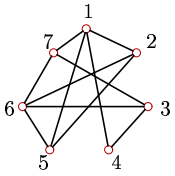
Задача 3.14. *Ткач Вячеслав*



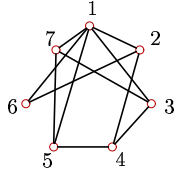
Задача 3.15. *Фадеева Вероника*



Задача 3.16. Чернышев Егор



Задача 3.17. Чирара Хамид



Задача 3.18. Шешуков Кирилл

