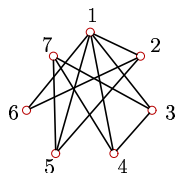


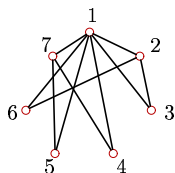
Радиус и диаметр графа

Найти число циклических маршрутов длины 3 (n_3), радиус r и диаметр d графа. Указать центр. Найти число остовов графа.

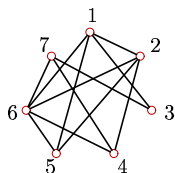
Задача 3.1. Бондаренко Андрей



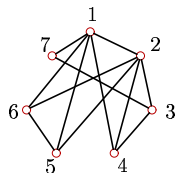
Задача 3.2. Волошин Даниил



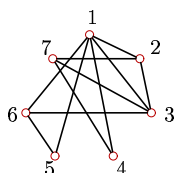
Задача 3.3. Зубрильчев Даниил



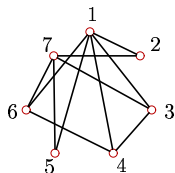
Задача 3.4. Иванов Михаил



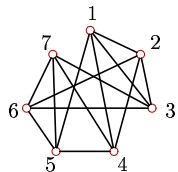
Задача 3.5. Котов Дмитрий



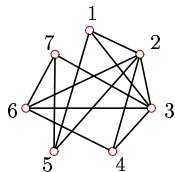
Задача 3.6. Луинов Никита



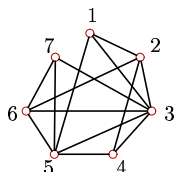
Задача 3.7. Ничипорова Светлана



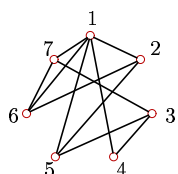
Задача 3.8. Осипова Татьяна



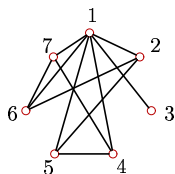
Задача 3.9. Петренко Валерия



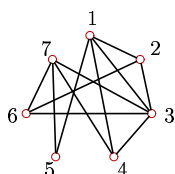
Задача 3.10. Рясной-Бредихин Владимир



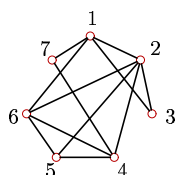
Задача 3.11. Тибанов Вячеслав



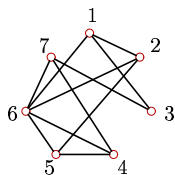
Задача 3.12. Уткин Артем



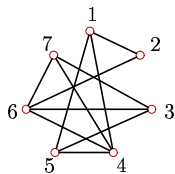
Задача 3.13. Шатравка Артем



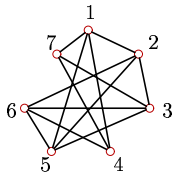
Задача 3.14. Гервальд Владислав



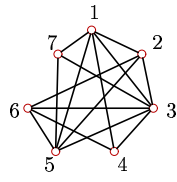
Задача 3.15.



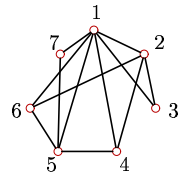
Задача 3.16.



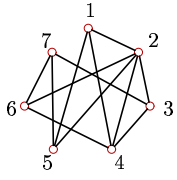
Задача 3.17.



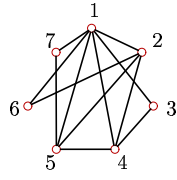
Задача 3.18.



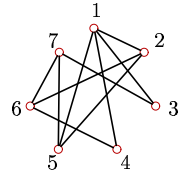
Задача 3.19.



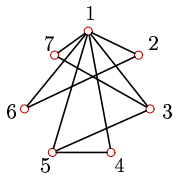
Задача 3.20.



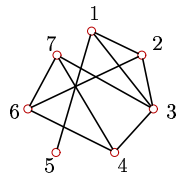
Задача 3.21.



Задача 3.22.



Задача 3.23.



Задача 3.24.

