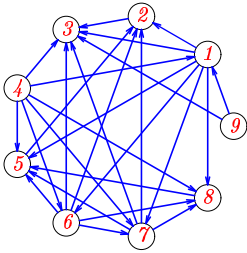


# Топологическая сортировка бесконтурной сети

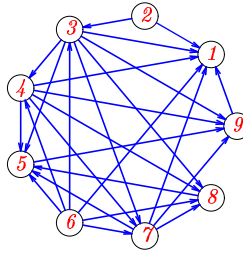
Найти порядковую функцию сети.

**Задача G-18.1.** Авелину Габриэл Ндинду



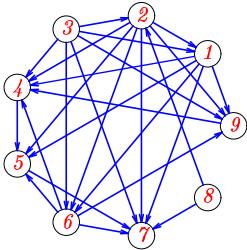
**Задача G-18.2.**

Алексеев Даниил



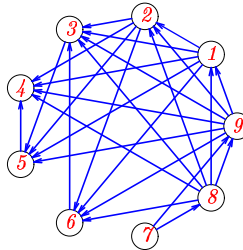
**Задача G-18.3.**

Алешин Владислав



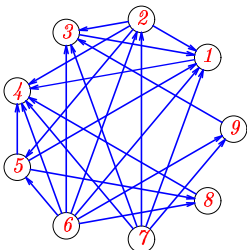
**Задача G-18.4.**

Андреев Даниил



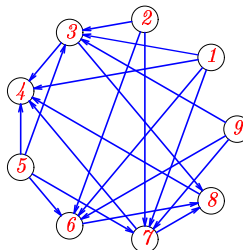
**Задача G-18.5.**

Арабаджиев Денис



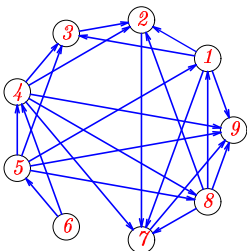
**Задача G-18.6.**

Клепиков Владимир



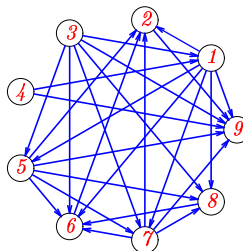
**Задача G-18.7.**

Кузнев Владимир



**Задача G-18.8.**

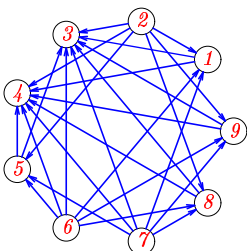
Мазур Илья Викторович



**Задача G-18.9.**

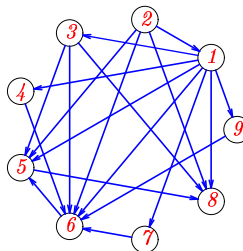
Жоау

Муширила Жеремиаш



**Задача G-18.10.**

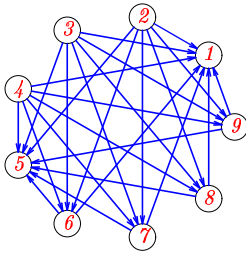
Нечаева Полина



**Задача G-18.11.**

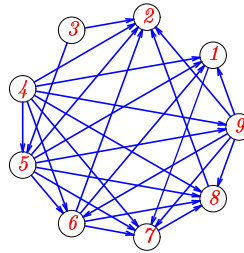
Фернанду Марселину

Жулиу

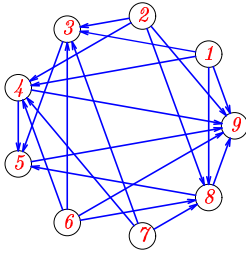
**Задача G-18.12.**

Хименес Мендиета

Хулио Сэсар

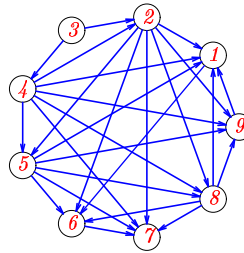
**Задача G-18.13.**

Хохрякова Анастасия

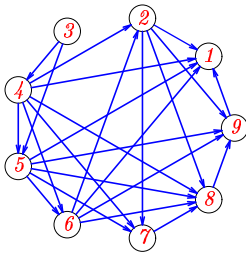
**Задача G-18.14.**

Чинжанжа Жозе

Португал

**Задача G-18.15.**

Шабанианборуджени С.



G-18

**Ответы.****Топологическая сортировка бесконтурной сети**

27-Oct-20

1	(9,4) ,1 ,6 ,7 ,8 ,5 ,2 ,3	Авелину Габриэл Ндинду
2	(2,6) ,3 ,4 ,7 ,8 ,5 ,9 ,1	Алексеев Даниил
3	(8,3) ,2 ,1 ,6 ,9 ,4 ,5 ,7	Алешин Владислав
4	7 , 8 , 9 , 1 , 2 , 6 , 3 , 5 , 4	Андреев Данил
5	(6,7) , (9,2) , (3,5) , (1,8) , 4	Арабаджиев Денис
6	(5,1,9,2),(3,6,7),8,4.	Клепиков Владимир
7	6 , 5 , 4 , 8 , 1 , 3 , 2 , 7 , 9	Кузив Владимир
8	(4,3) ,1 ,5 ,7 ,8 ,6 ,2 ,9	Мазур Илья Викторович
9	(6,2,7),(1,5,8,9),(3,4)	Муширила Жеремиаш Жоау
10	2,1,( 9,7,4,3)6 , 5 , 8	Нечаева Полина
11	(2,4,3),(7,8,6,9),(5,1)	Фернанду Марселину Жулиу
12	(3,4) ,5 ,9 ,6 ,1 ,7 ,8 ,2	Хименес Мендиета Хулио Сэсар
13	(1,6,2,7),(3,4,8),5,9.	Хохрякова Анастасия
14	3 , 4 , 2 , 5 , 8 , 9 , 1 , 6 , 7	Чинжанжа Жозе Португал
15	3 , 4 , 5 , 6 , 2 , 7 , 8 , 9 , 1	Шабанианборуджени С.

G-18 файл 18гсаWG